

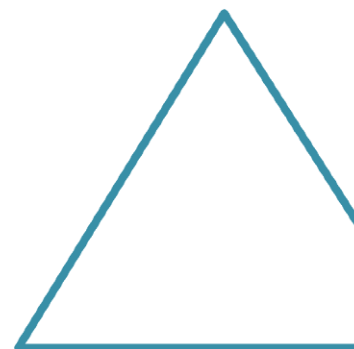
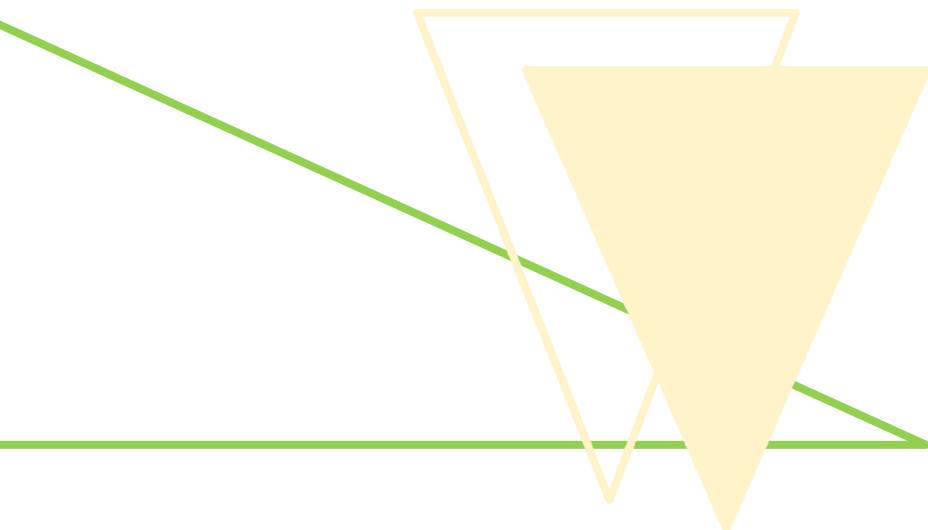


C4


Zahlensuche zum Völkerschlachtdenkmal

zum Vergnügen
»leicht«

Die Kategorie Spiel und Spaß dient dem reinen Vergnügen vom kleinsten Besucher zum Denkmalsexperthen am eigenen Schreibtisch. Die meisten Unterlagen sind mit Lösungsvorschlägen/-hilfen versehen. Das Dokument kann kostenlos heruntergeladen und ausgedruckt werden. Viel Spaß!



Welcher Zahlenwert gehört zu welcher Aussage? Verbinde die Kästchen der linken Spalte mit den zugehörigen der rechten durch Pfeile!



A	15
B	3
C	400
D	91
E	1813
F	320
G	26.500
H	90
I	324
J	40
K	270.000.000

1.	Tonnen (=1000kg) wiegt eine der vier großen Figuren, die in der Ruhmeshalle „sitzen“
2.	Prozent beträgt der Anteil des Baustoffes Zementstampfbeton, aus dem das Denkmal besteht
3.	Kilometer würde die Holzbalken des Baugerüsts ergeben, die man für den Oberbaus benötigte
4.	Wer im Völkerschlachtdenkmal ganz nach oben sieht, erkennt an der Innenseite der Kuppel so viele Reitern
5.	Diese Jahreszahl kann man außen am Denkmal lesen
6.	Jahre dauerte der Bau des Völkerschlachtdenkmals
7.	So viele Arbeiter waren durchschnittlich auf der Baustelle des Denkmals beschäftigt
8.	Steinblöcke aus Granit wurden an und in der Denkmalspyramide verbaut
9.	Weil das Geld für den Bau des Denkmals immer wieder knapp wurde, veranstaltete man Lotterien. Soviel Mark (heute sind es Euro) Mark kostete ein Los.
10.	Jahre ist es her, dass der Granitporphyr in Nordwestsachsen entstand, aus dem die Fassade und die Skulpturen des Denkmals gefertigt sind
11.	Meter hoch ist das Völkerschlachtdenkmal insgesamt

Lösung

A	6
B	9
C	1
D	11
E	5
F	3
G	8
H	2
I	4
J	7
K	10